



Corporación Cristiana Eliezer Salinas - Talcahuano  
-GUIA 3 DE TRABAJO -. UNIDAD 1.-  
-MATEMATICA.-

*Con Fe, Esfuerzo y Amor*

Nombre: .....

Fecha: .....

**Objetivos:**

- ✓ Describir y aplicar estrategias de cálculo mental para las adiciones y las sustracciones hasta 20: conteo hacia adelante y atrás, completar 10, dobles
- ✓ Determinar las unidades y decenas en números del 0 al 20, agrupando de a 10, de manera concreta, pictórica y simbólica.

Antes de comenzar te invito a reforzar y trabajar en tu cuaderno de actividades páginas 26 hasta la 30



*Cuenta los jarrones y completa.*



3 y 7 son 10.



□ y □ son 10.

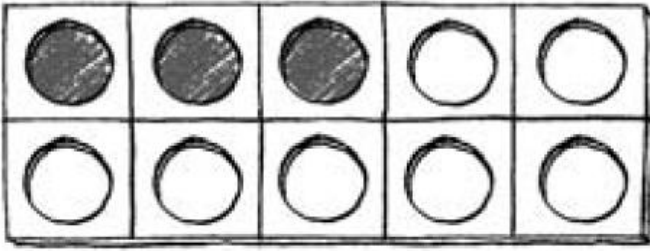


□ y □ son 10.

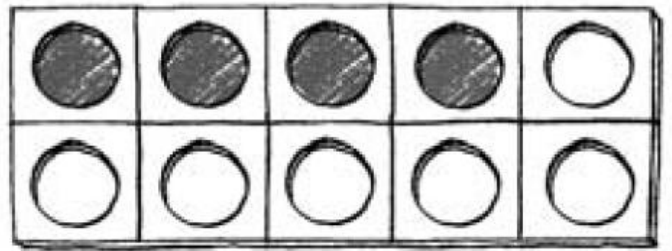


□ y □ son 10.

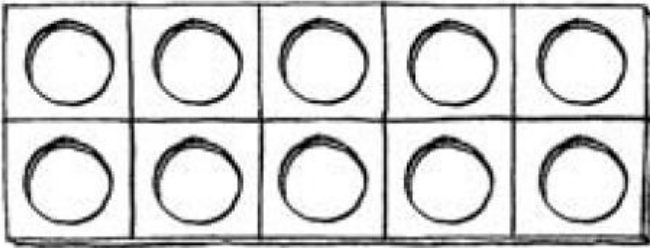
• Colorea y completa.



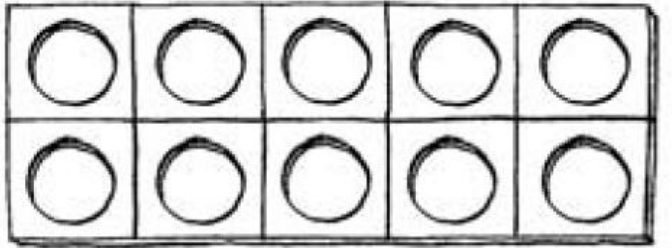
3 y 7 son 10.



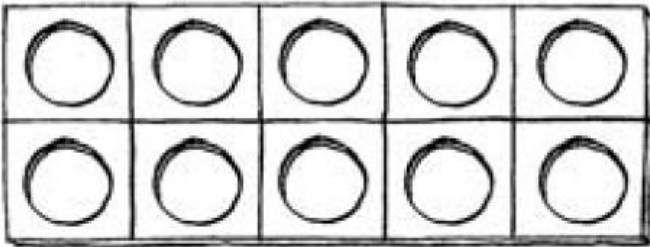
4 y     son 10.



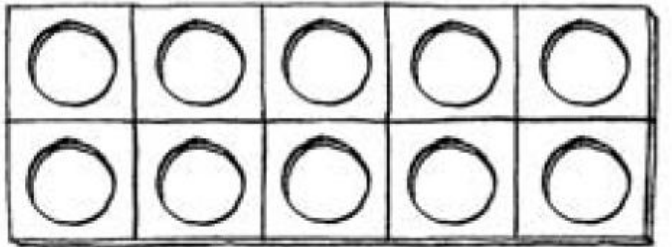
    y     son 10.



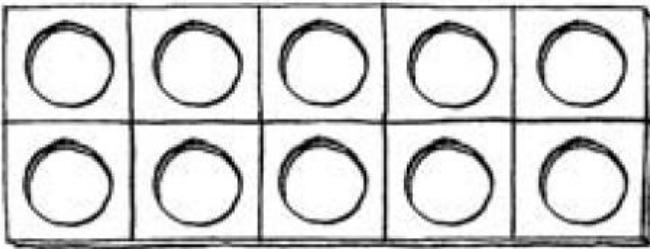
    y     son 10.



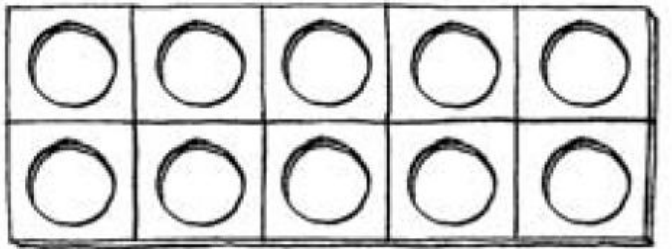
    y     son 10.



    y     son 10.




    y     son 10.




    y     son 10.

Haz grupos de 10 y completa.




decenas



decenas

Cuenta y escribe los números.




unidades

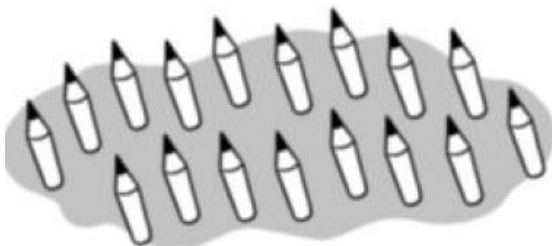


unidades =  decena

Rodea 10 y completa.



decena y  unidades



decena y  unidades


Cuenta y completa.



1 decena y 6 unidades

$$\boxed{10} + \boxed{6} = \boxed{\phantom{00}}$$

D	U



\_\_\_ decena y \_\_\_ unidades

$$\boxed{\phantom{00}} + \boxed{\phantom{00}} = \boxed{\phantom{00}}$$

D	U



\_\_\_ decena y \_\_\_ unidades

$$\boxed{\phantom{00}} + \boxed{\phantom{00}} = \boxed{\phantom{00}}$$

D	U



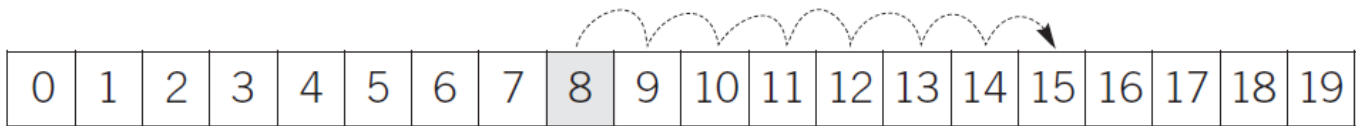
\_\_\_ decena y \_\_\_ unidades

$$\boxed{\phantom{00}} + \boxed{\phantom{00}} = \boxed{\phantom{00}}$$

D	U

- Observa la serie, cuenta y completa.

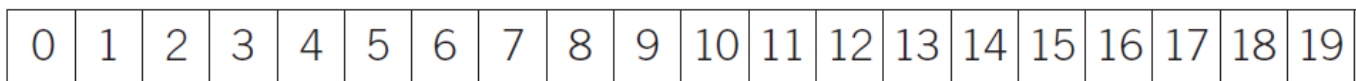
$$8 + 7 = \square$$



8 ► 9, 10, 11, 12, 13, 14, 15.

---

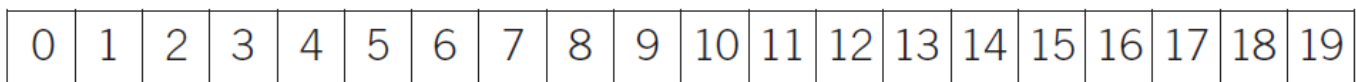
$$9 + 4 = \square$$



9 ► \_\_\_\_\_.

---

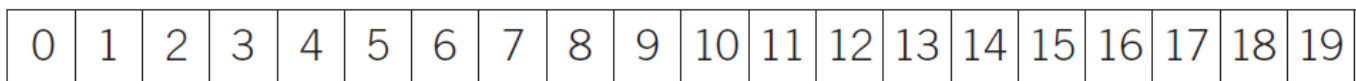
$$8 + 1 + 6 = \square$$



8 ► \_\_\_\_\_.

---

$$4 + 3 + 5 = \square$$




4 ► \_\_\_\_\_.

- ¿Cuántos huevos faltan en la caja? Cuenta y completa.

$$10 - 6$$

Cuento desde 6 hasta \_\_\_\_.



6 ► \_\_\_\_, \_\_\_\_, \_\_\_\_, \_\_\_\_.

$$\square - \square = \square$$

Faltan \_\_\_\_ huevos.

Une y completa.

15       $10 + 8 \blacktriangleright$   decena y  unidades

16       $10 + 6 \blacktriangleright$   decena y  unidades

17       $10 + 5 \blacktriangleright$   decena y  unidades

18       $10 + 9 \blacktriangleright$   decena y  unidades

19       $10 + 7 \blacktriangleright$   decena y  unidades

Ahora te invito a reforzar y trabajar en tu cuaderno de actividades páginas 33 hasta la 36

