



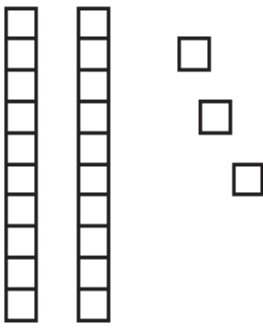
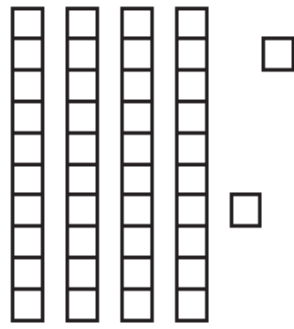
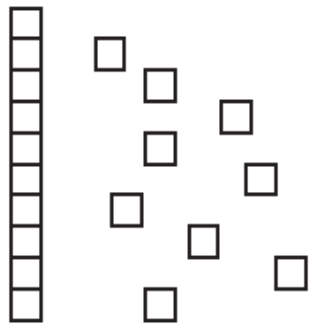
MATEMÁTICA SEGUNDO AÑO BÁSICO.

Nombre _____

1.- Cuenta de 5 en 5 y completa escribiendo los números que faltan.

 5				 25
			 45	
	 60			
				 100

2.- Cuenta y escribe cuántas decenas y unidades hay en cada caso.

<p>1)</p> 	<p>2)</p> 	<p>3)</p> 
---------------------------------------------------------------------------------------------	---------------------------------------------------------------------------------------------	-----------------------------------------------------------------------------------------------

Decenas: _____

Unidades sueltas: _____

Unidades en total: _____

Decenas: _____

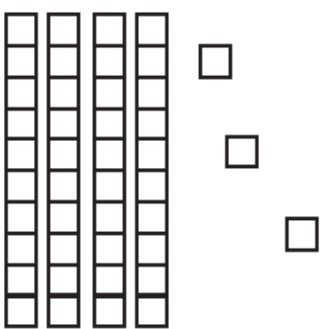
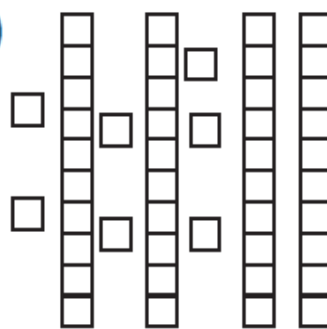
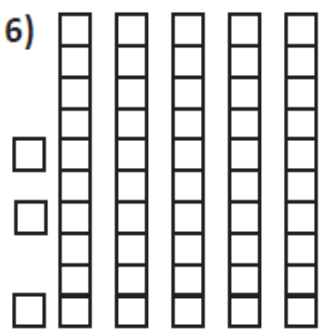
Unidades sueltas: _____

Unidades en total: _____

Decenas: _____

Unidades sueltas: _____

Unidades en total: _____

<p>4)</p> 	<p>5)</p> 	<p>6)</p> 
----------------------------------------------------------------------------------------------	----------------------------------------------------------------------------------------------	------------------------------------------------------------------------------------------------

Decenas: _____

Unidades sueltas: _____

Unidades en total: _____

Decenas: _____

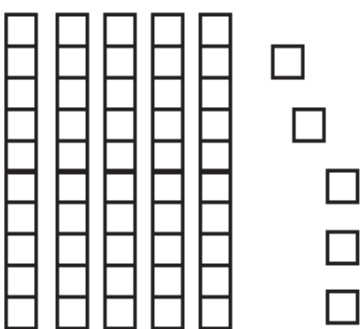
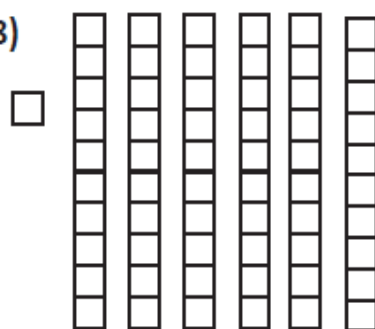
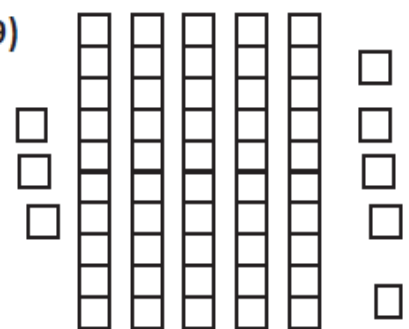
Unidades sueltas: _____

Unidades en total: _____

Decenas: _____

Unidades sueltas: _____

Unidades en total: _____

<p>7)</p> 	<p>8)</p> 	<p>9)</p> 
-----------------------------------------------------------------------------------------------	-----------------------------------------------------------------------------------------------	-------------------------------------------------------------------------------------------------

Decenas: _____

Unidades sueltas: _____

Unidades en total: _____

Decenas: _____

Unidades sueltas: _____

Unidades en total: _____

Decenas: _____

Unidades sueltas: _____

Unidades en total: _____

3.- Cuenta y suma los lápices. Sigue el ejemplo.

$$\begin{array}{r}
 \begin{array}{c} \text{---} \\ \text{---} \end{array} \\
 + \\
 \begin{array}{c} \text{---} \\ \text{---} \\ \text{---} \\ \text{---} \end{array} \\
 \hline
 \end{array}$$

$$\begin{array}{r}
 \begin{array}{c} \text{---} \\ \text{---} \\ \text{---} \end{array} \\
 + \\
 \begin{array}{c} \text{---} \\ \text{---} \\ \text{---} \\ \text{---} \\ \text{---} \end{array} \\
 \hline
 \end{array}$$

$$\begin{array}{r}
 \begin{array}{c} \text{---} \\ \text{---} \\ \text{---} \\ \text{---} \end{array} \\
 + \\
 \begin{array}{c} \text{---} \\ \text{---} \\ \text{---} \end{array} \\
 \hline
 \end{array}$$

$$\begin{array}{r}
 \begin{array}{c} \text{---} \\ \text{---} \\ \text{---} \\ \text{---} \end{array} \\
 + \\
 \begin{array}{c} \text{---} \end{array} \\
 \hline
 \end{array}$$

$$\begin{array}{r}
 \begin{array}{c} \text{---} \\ \text{---} \end{array} \\
 + \\
 \begin{array}{c} \text{---} \\ \text{---} \\ \text{---} \\ \text{---} \\ \text{---} \end{array} \\
 \hline
 \end{array}$$

$$\begin{array}{r}
 \begin{array}{c} \text{---} \\ \text{---} \\ \text{---} \\ \text{---} \\ \text{---} \end{array} \\
 + \\
 \begin{array}{c} \text{---} \\ \text{---} \\ \text{---} \\ \text{---} \end{array} \\
 \hline
 \end{array}$$

$$\begin{array}{r}
 \begin{array}{c} \text{---} \\ \text{---} \\ \text{---} \\ \text{---} \end{array} \\
 + \\
 \begin{array}{c} \text{---} \\ \text{---} \\ \text{---} \end{array} \\
 \hline
 \end{array}$$

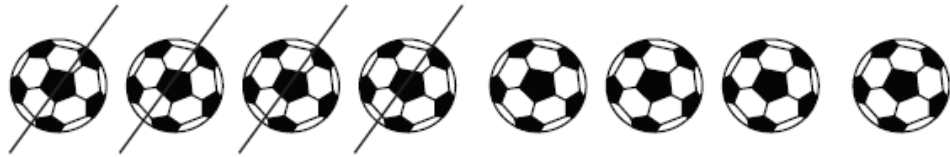
$$\begin{array}{r}
 \begin{array}{c} \text{---} \\ \text{---} \\ \text{---} \\ \text{---} \\ \text{---} \end{array} \\
 + \\
 \begin{array}{c} \text{---} \\ \text{---} \\ \text{---} \\ \text{---} \\ \text{---} \end{array} \\
 \hline
 \end{array}$$

$$\begin{array}{r}
 \begin{array}{c} \text{---} \\ \text{---} \\ \text{---} \\ \text{---} \end{array} \\
 + \\
 \begin{array}{c} \text{---} \\ \text{---} \\ \text{---} \end{array} \\
 \hline
 \end{array}$$

4.- Tacha el número de pelotas que vas a restar en cada caso. Anota cuántas sobran. Sigue el ejemplo.

$$\begin{array}{r} 8 \\ - 4 \\ \hline \end{array}$$

4



$$\begin{array}{r} 9 \\ - 3 \\ \hline \end{array}$$



$$\begin{array}{r} 7 \\ - 6 \\ \hline \end{array}$$



$$\begin{array}{r} 9 \\ - 1 \\ \hline \end{array}$$




$$\begin{array}{r} 8 \\ - 3 \\ \hline \end{array}$$



$$\begin{array}{r} 7 \\ - 4 \\ \hline \end{array}$$



5.- Observa y pinta con lápiz de color: ROJO las figuras 2D y VERDE las figuras 3D.



Clasificando cuerpos geométricos

Recorta los recuadros y clasificalos, pegándolos donde corresponda.

ESFERAS

CONOS

PRISMAS

CILINDROS

PIRÁMIDES

