




**HISTORIA, GEOG. Y CS. SOCIALES SEGUNDO AÑO**  
**UNIDAD 1: ¿CÓMO ES EL LUGAR DONDE VIVIMOS?**  
**GUÍA N°4**

**PROFESORA: Daniela Ramírez Neira.**

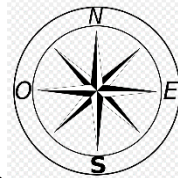
Nombre \_\_\_\_\_

**LECCIÓN 1**

Durante esta lección aprenderemos la utilidad que tienen los puntos cardinales.



¿Has visto este símbolo alguna vez?, ¿dónde?, ¿qué crees que significa?, ¿para qué servirá? Comenta.



Observa el siguiente video sobre la utilidad que tienen los puntos cardinales para ubicarse.

**Link del video:** <https://www.youtube.com/watch?v=7cDvDEz8fP0>

**Nombre del video:** Los Puntos Cardinales . Este Oeste Norte Sur . Barney El Camión . Video para niños #



Los Puntos Cardinales- Este Oeste Norte Sur - Video para niños  
YouTube - lunacreciente

- **PÁGINA 18 DE TU LIBRO:** Lee en voz alta y con mucha atención la información acerca de los puntos cardinales y la rosa de los vientos que allí se encuentra.

### RESPONDE:

Explica con tus palabras, ¿qué son los **puntos cardinales** y la **rosa de los vientos**?

Los puntos cardinales son \_\_\_\_\_

\_\_\_\_\_

La rosa de los vientos \_\_\_\_\_

\_\_\_\_\_



- **PÁGINA 19 DE TU LIBRO:** Sigue las instrucciones y realiza la actividad que se detalla a continuación.

### INSTRUCCIONES

- 1.- Observa la ilustración de la **página 19** y ubícate de la misma forma en que está el niño.
- 2.- Apunta con tu brazo derecho extendido hacia donde sale el sol. La punta de ese brazo señala el **Este**; tu frente apunta el **Norte**; tu brazo izquierdo apunta el **Oeste** y a tu espalda está el **Sur**.
- 3.- Ahora cambia de posición e intenta volver a ubicar de la misma forma en que lo hiciste, los cuatro puntos cardinales. Haciendo este ejercicio, te darás cuenta que el Norte y el resto de los puntos cardinales **no están siempre en la misma posición**.



**RESPONDE:**

- ¿Cuáles son los puntos cardinales? Nómbralos

\_\_\_\_\_

- ¿Por dónde sale el sol? \_\_\_\_\_

- ¿Por dónde se esconde el sol? \_\_\_\_\_

- Escribe 2 situaciones en las que es necesario usar los puntos cardinales.

\_\_\_\_\_

\_\_\_\_\_

\_\_\_\_\_


\_\_\_\_\_

**LECCIÓN 2**

Durante esta lección aprenderemos a leer planos y a utilizar los puntos cardinales para ubicarse en el plano.

**PÁGINAS 20 Y 21 DE TU LIBRO:** Observa con detalle el plano que se muestra en ambas páginas y responde:

- ¿Qué símbolo usarías para representar la plaza? Dibújalo.



- Reflexiona, ¿para qué sirve que el mapa contenga los nombres de las calles?

---

---

- Utiliza los símbolos que muestran lugares u objetos del plano y los puntos cardinales para saber qué se encuentra:

al **norte** de la plaza\_\_\_\_\_

al **sur** del supermercado\_\_\_\_\_

al **este** del correo\_\_\_\_\_

al **este** de los bomberos\_\_\_\_\_

**PÁGINA 21 DE TU LIBRO:** Lee la **actividad 1** con mucha atención y responde la pregunta que allí aparece.

**¿Qué camino debiese recorrer José si tuviera que llegar a estos lugares? ¡No olvides usar los puntos cardinales!**

Correo \_\_\_\_\_

---

---

Almacén de Don Tito\_\_\_\_\_

---

---

Supermercado\_\_\_\_\_

---

---

Los bomberos\_\_\_\_\_

---

---

Para conocer el plano de tu barrio puedes visitar: <https://www.google.cl/maps> y poner tu dirección.



Para complementar nuestros aprendizajes, te invito a ver el siguiente video, que cuenta una breve reseña de la historia de la brújula: <http://bit.ly/2V8ArgB>



El Primer GPS: La Brújula | Videos Educativos para Niños

