

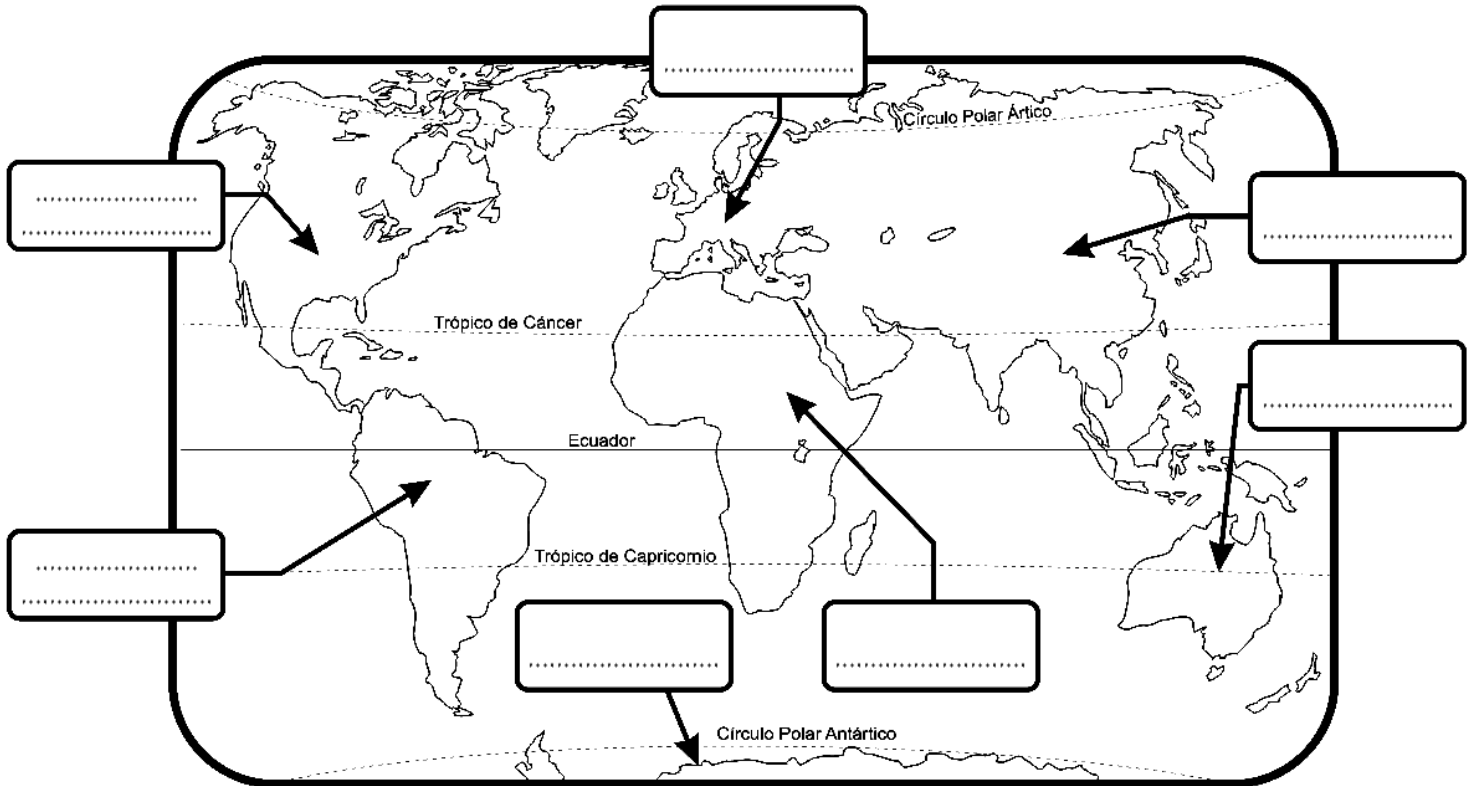


Repasamos en casa.

Nombre: \_\_\_\_\_

**Actividad 1:** Observa el mapamundi y escribe el nombre de los continentes según corresponda.

África – América del Sur – Asia – Oceanía – Europa – América del Norte.



**Actividad 2:** Observa el planisferio y responde las siguientes preguntas.

a.- ¿Cuál es el continente en que vives? Coloréalo de color verde claro.

El continente en que vivo se llama \_\_\_\_\_

b.- ¿Cuál continente se encuentra al Este del continente en que tú vives? Coloréalo de color café claro. Al Este de mi continente se encuentra \_\_\_\_\_

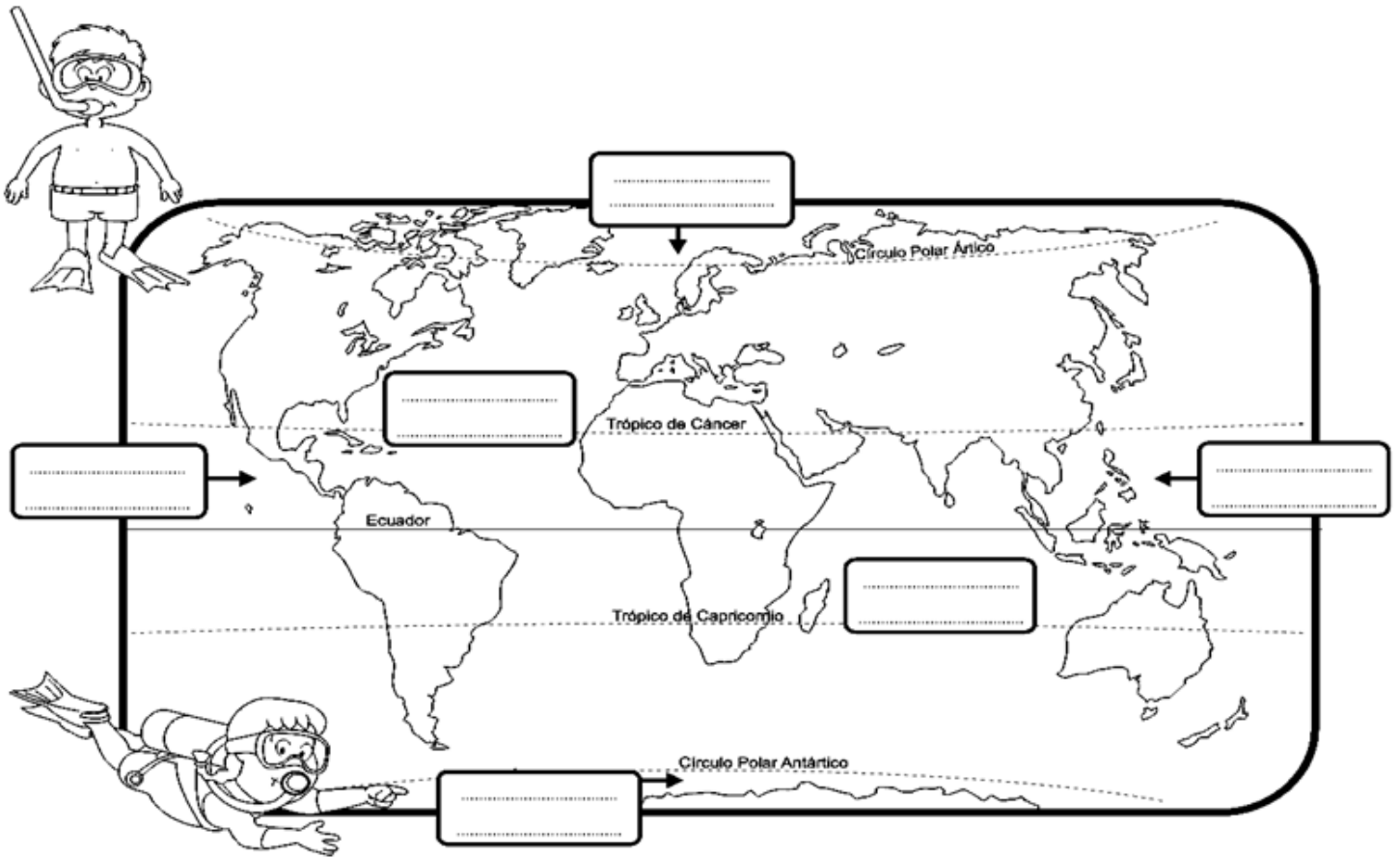
c.- Ubica Europa y coloréalo de rojo. ¿Qué continente esta al Este de Europa? Al Este de Europa se encuentra \_\_\_\_\_. Coloréalo de amarillo.

d.- ¿Qué continente esta se encuentra al Sur de Asia? Al Sur de Asia se encuentra \_\_\_\_\_. Coloréalo de morado.

e.- Colorea América del Norte de color naranja.

**Actividad 3:** Del planisferio solo colorea los océanos y escribe los nombres según corresponda.

Atlántico – Pacífico – Índico – Glacial Ártico – Glacial Antártico.



**Actividad 4:** Observa el planisferio y responde las siguientes preguntas:

a.- ¿Qué continente está al Este de Europa? \_\_\_\_\_

b.- Si voy en un crucero de Europa a Oceanía ¿Qué continente deberá cruzar el crucero? \_\_\_\_\_

c.- ¿Qué continente queda al Norte de Europa, Asia y América del Norte? \_\_\_\_\_

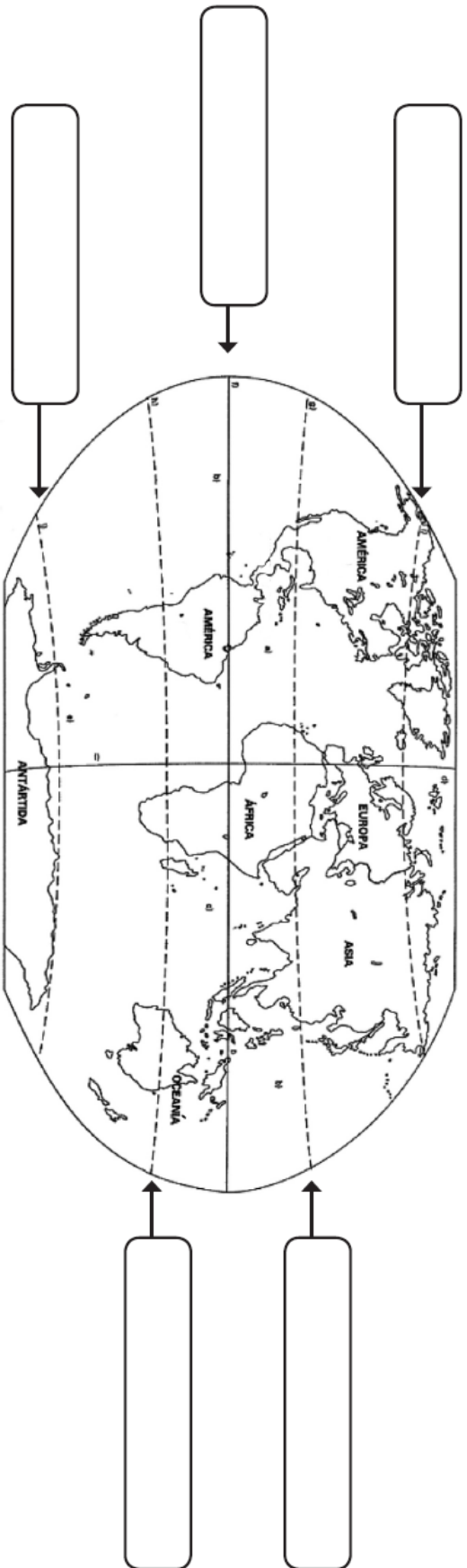
d.- ¿Cuál es el océano más grande? \_\_\_\_\_

e.- ¿Qué océano baña a los continentes asiático y americano? \_\_\_\_\_

f.- ¿Qué océano separa a América del Sur de África? \_\_\_\_\_

c.- ¿Qué continente queda al Sur de América del Sur? \_\_\_\_\_

# Zonas Climáticas

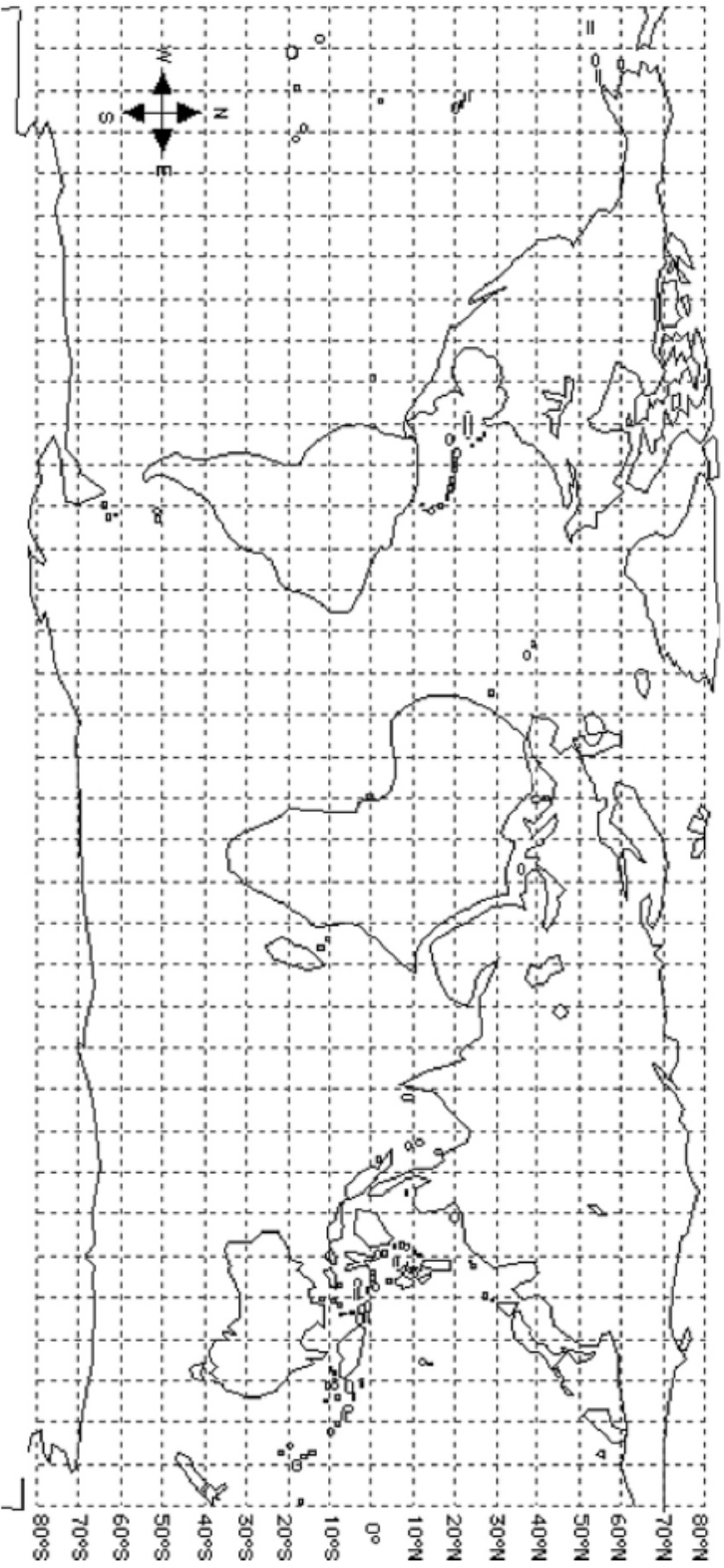
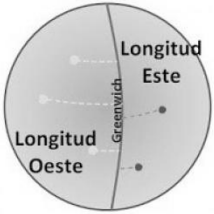


En los  escribe, donde corresponda:

- Línea del Ecuador
- Trópico de Cáncer
- Círculo Polar Ártico
- Trópico de Capricornio
- Círculo Polar Antártico

Pinta con lápiz de color:

- rojo  zona cálida o tropical
- naranja  zonas templadas
- amarillo  zonas frías



Ubica los siguientes símbolos, dibujándolos en el mapamundi en el lugar que tú desees. Luego, determina su latitud y longitud.

Símbolo	Latitud	Longitud
