



Asignatura: Matemática. Cuarto Básico

Profesora: Anita Martínez Ambiado.

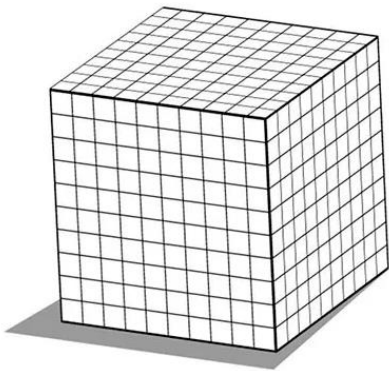
Unidad 1: Matemática en el día a día.

Lección 1: Números hasta el 10.000 – Guía 1

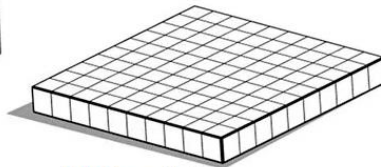
Nombre: _____

Recuerda trabajar las páginas 22 al 31 del libro de estudiantes y del libro de ejercicios pág. 10 – 13 -14

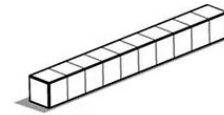
Bloques multibase.



1.000 = 1 UM



100 = 1C

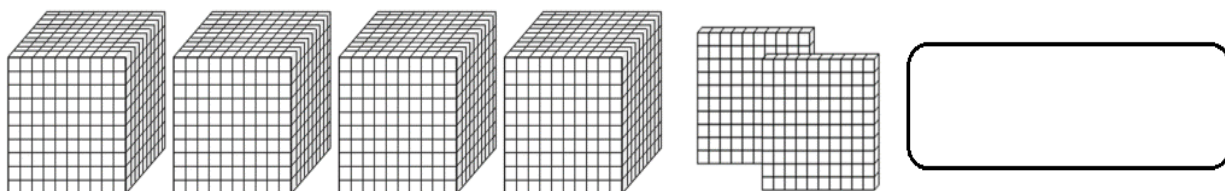
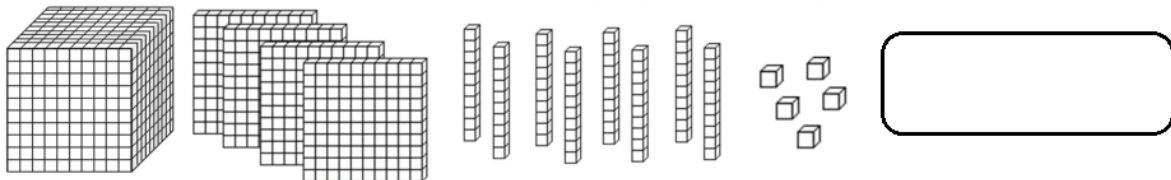
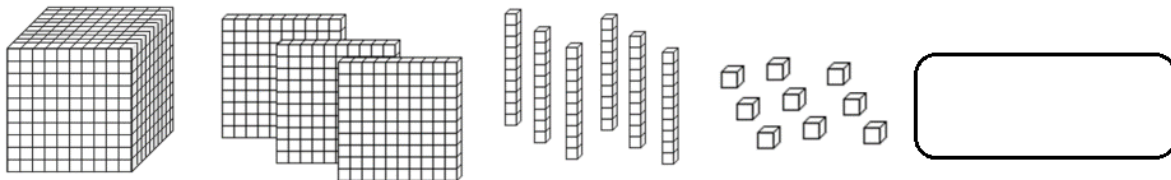
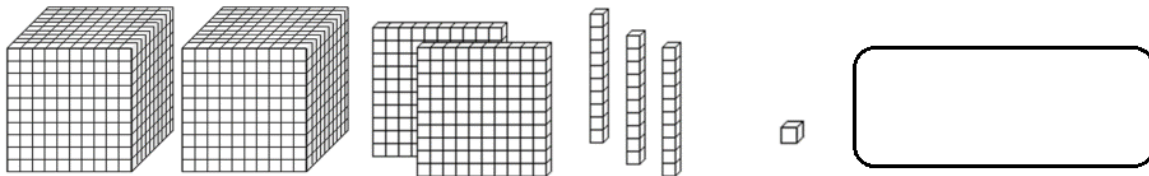


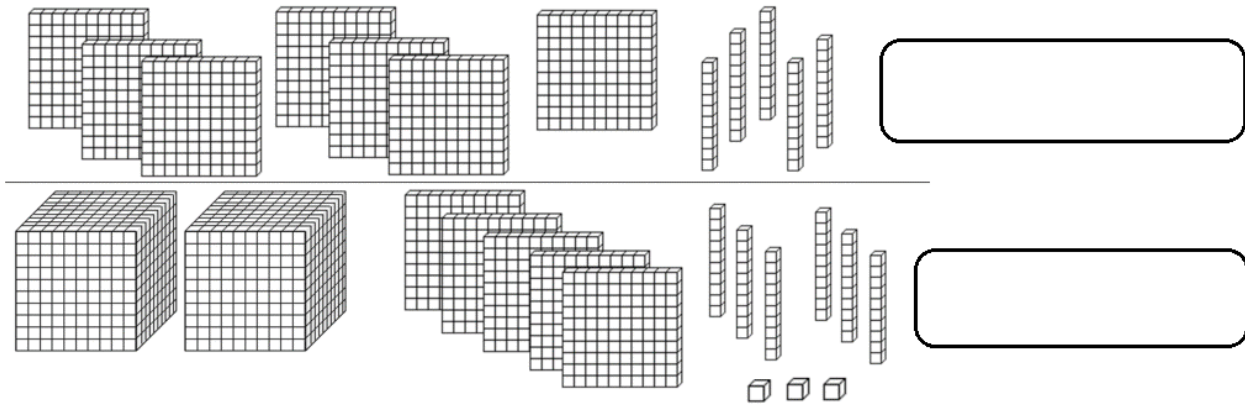
10 = 1 D




1 = 1U

Actividad 1: Escribe la cifra que representan los bloques multibase.







Actividad 2: Escribe con palabras el valor de cada producto que la mamá de Dominga ha comprado en el negocio del barrio.



\$ 5.350



\$ 3.700



\$4.899



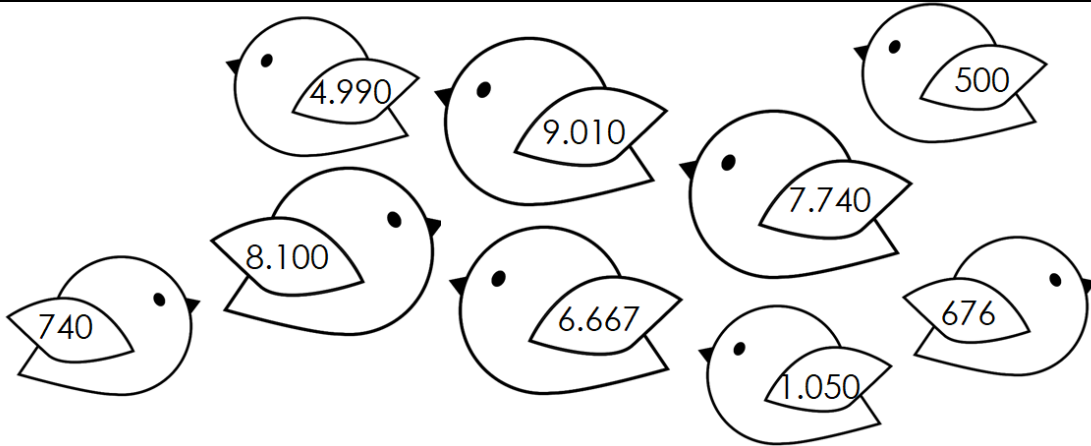
\$ 2.990



\$6.150

Actividad 3: Pinta de igual color el recuadro y el pajarito que contengan el mismo número.

ocho mil cien	seis mil seiscientos sesenta y siete	mil cincuenta
siete mil setecientos cuarenta	cuatro mil novecientos noventa	setecientos cuarenta
quinientos	seiscientos setenta y seis	nueve mil diez



Actividad 4: Mi abuelita pondrá a la venta algunos dulces que ella sabe hacer. Me ofrecí a escribir el cartel de precios pero necesito de tu ayuda. ¿Me ayudas?

Lista de Precios:

- ✍ **Kuchen:** cuatro mil seiscientos treinta.
- ✍ **Cupcakes:** mil doscientos veinticinco.
- ✍ **Pie de limón:** seis mil ochocientos cuarenta.
- ✍ **Berlines:** setecientos setenta y dos.
- ✍ **Tartaletas:** ocho mil seiscientos noventa.
- ✍ **Brownies:** novecientos noventa y seis.
- ✍ **Waffles:** dos mil trescientos.

Pastelería: Mi abuelita...

Kuchen: \$ _____

Cupcakes: \$ _____

Pie de Limón: \$ _____

Berlines: \$ _____

Tartaletas: \$ _____

Brownies: \$ _____

Waffles: \$ _____

Desafío 1: Resuelve las siguientes adiciones y sustracciones con reserva. Luego escribe el resultado en palabras.

$$\begin{array}{r}
 5.590 \\
 2.314 \\
 + \quad 37 \\
 \hline
 \end{array}$$

$$\begin{array}{r} 8.930 \\ - 580 \\ \hline \end{array}$$

$$\begin{array}{r} 3.777 \\ + 6.003 \\ \hline \end{array}$$

$$\begin{array}{r} 7.000 \\ - 150 \\ \hline \end{array}$$

Desafío 2: Lee y resuelve los siguientes problemas.

a.- Mi mamá lleva en su monedero \$ 8.985. En la farmacia gasto \$ 4.023 y en verdulería \$2.330. ¿Con cuánto dinero habrá quedado mamá después de las compras.

Escribo datos	Resuelvo
.	
Responde:	

a.- Mi papá tenía \$5.499 y mamá le prestó \$ 3.999. ¿Con cuánto dinero fue papá al centro?

Escribo datos	Resuelvo
Responde:	