



Guía 6 Matemáticas

¡Juguemos y aprendamos en familia!

Nombre: _____

Indicaciones generales:






- 1.- Lean en voz alta cada una de las instrucciones, analizando cada una de ellas.
- 2.- Escuchar las respuestas de los niños y niñas, dando tiempo para que reflexione y descubra las respuestas.
- 3.- Apóyelo, siempre que sea necesario o se lo solicite y a ¡DISFRUTAR!
- 4.- Enviar algunas fotitos del proceso al WhatsApp del curso.

*¡una sonrisa
puede cambiar
tu día!*



Actividad 1

¿Cuántos hay?



Actividad 2

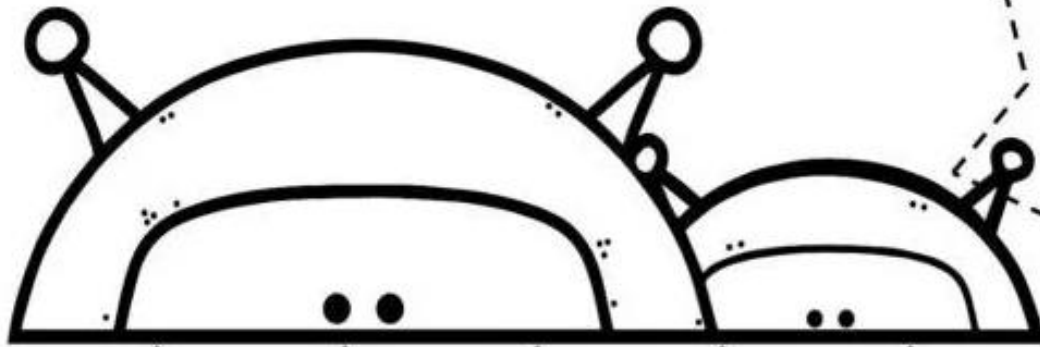
Conociendo el número 17, el número 18, el número 19 y el número 20.

Colorea los número "17" que encuentres.



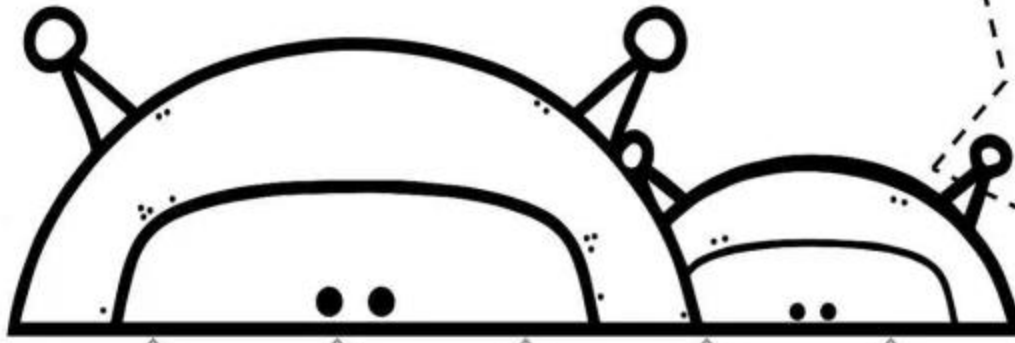
15	17	12	17	11	17	14
11	13	18	17	15	13	16
14	12	17	16	17	19	14
17	19	15	13	12	11	17
11	17	19	17	15	17	13
16	12	14	17	11	15	18
17	19	11	17	18	12	17

Colorea los número "18" que encuentres.



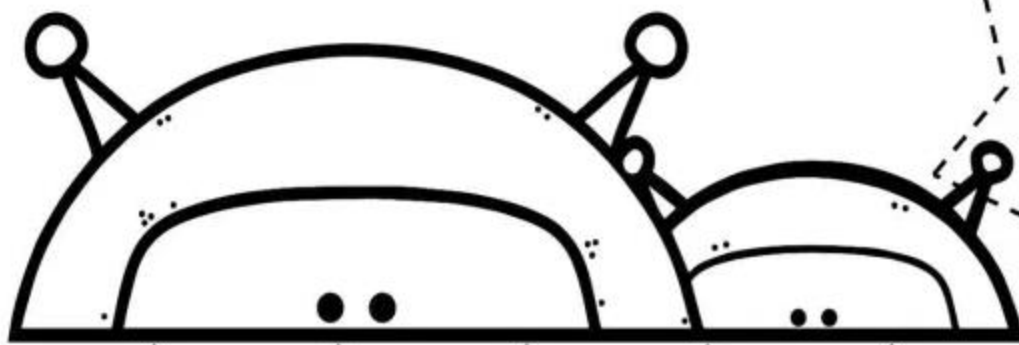
12	18	19	18	11	18	15
18	18	13	12	15	13	14
15	11	14	18	19	18	11
18	13	18	16	18	12	18
14	15	12	18	11	13	6
17	18	13	19	14	18	15
19	12	11	18	17	19	12

Colorea los número "19" que encuentres.



12	19	11	14	13	19	14
19	17	15	13	15	11	19
13	19	12	16	14	19	12
19	11	18	13	17	13	19
14	19	17	19	11	19	14
16	13	14	12	13	18	19
19	11	19	18	12	19	17

Colorea los número "20" que encuentres.



20

20

22

23

20

25

23

20

29

21

28

24

27

21

22

23

22

20

21

20

26

29

20

20

29

20

28

20

20

21

24

20

22

20

23

22

27

22

21

23

28

21

27

20

29

22

20

28


27

20

Actividad 3

Relaciones temporales: secuencias de cuatro escenas.

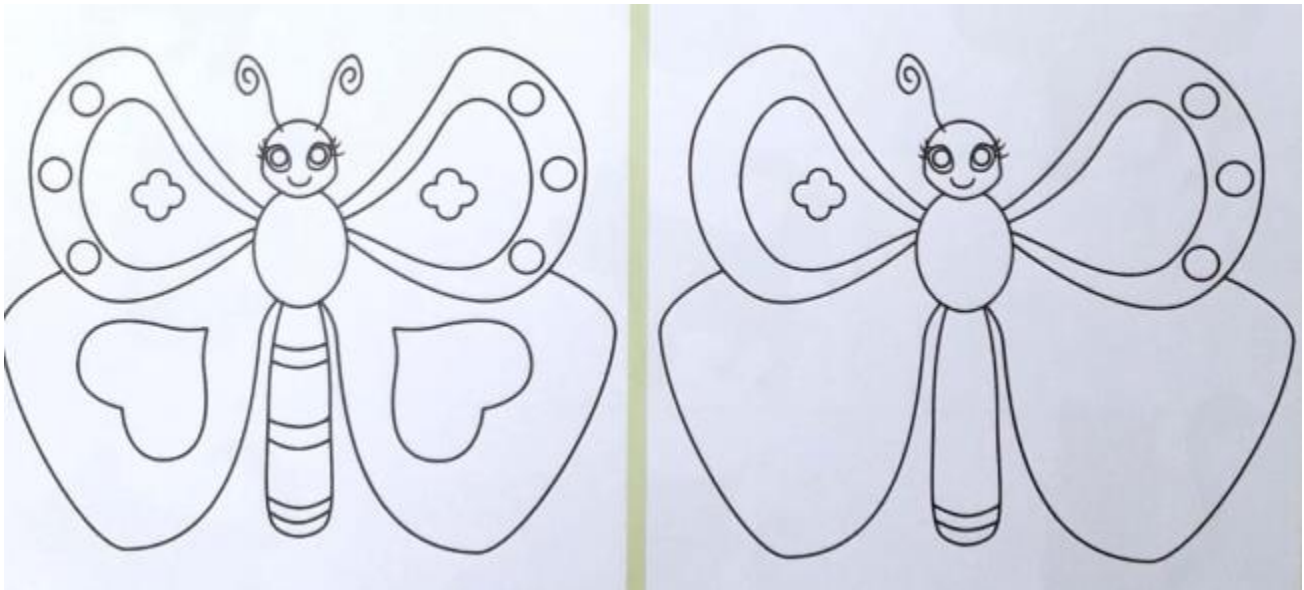
Enumera del 1 al 4 las imágenes de cada secuencia de acuerdo al orden en que ocurren.



Actividad 4

Semejanzas y diferencias.

Dibuja lo que falta en la segunda mariposa para que quede igual a la primera. Pinta las mariposas.



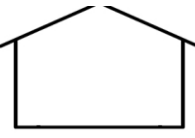











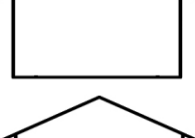


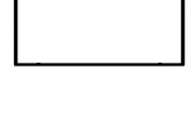


Actividad 5

Adiciones (sumas)

- Resuelve las adiciones (sumas), utilizando tu máquina de sumar.




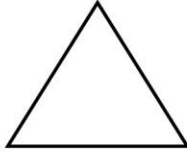
$$\begin{array}{r} 9 + 3 = \square \\ 1 + 4 = \square \\ 2 + 0 = \square \\ 3 + 2 = \square \\ 8 + 3 = \square \\ 2 + 4 = \square \end{array}$$

	+		=	
	+		=	
	+		=	
	+		=	
	+		=	
	+		=	

Actividad 6

Recordando las...

Coloréalas

Figuras Geométricas	
Círculo 	Cuadrado 
Rectángulo 	Triángulo 

• Busca y colorea las figuras que encuentres con los siguientes colores:

- Círculo: verde.
- Cuadrado: azul.
- Triángulo: rojo.
- Rectángulo: amarillo.

